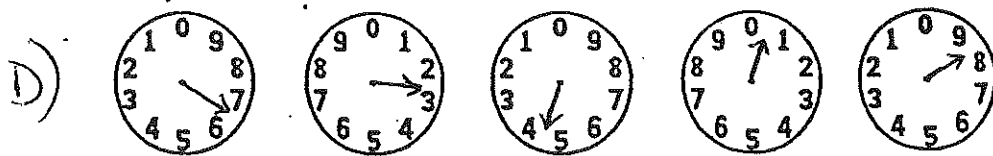





Le compteur électrique



- 1.) Trouve la lecture du compteur pour A) B) C) D).
- 2.) Trouve la différence de:
 - a) $B - A$
 - b) $D - C$
- 3.) Quelle différence est la plus grande : a) ou b) ?
- 4.) Si le coût de l'électricité est \$0,07/kWh, trouve le coût total de:
 - a) $B - A$
 - b) $D - C$
 - c) $D - A$
 - d) $C - B$