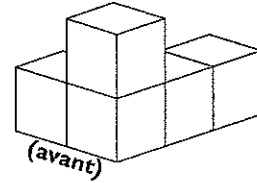


Tracer la vue de haut et les élévations d'objets d'après des croquis et des modèles

9.5 La vue de haut et les élévations

Tu peux construire chaque modèle avec des cubes à encastrer.

Utilise ce modèle. Associe chaque énoncé avec l'illustration qu'il décrit.

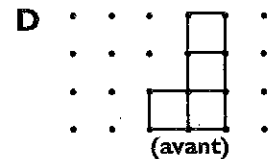
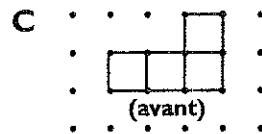
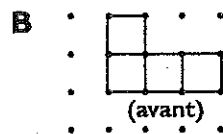
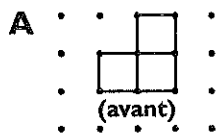


1. vue de haut

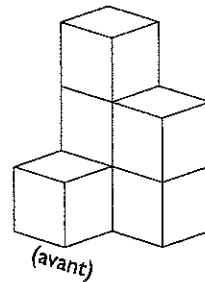
2. élévation avant

3. élévation gauche

4. élévation droite



Utilise ce modèle. Associe chaque énoncé avec l'illustration qu'il décrit.

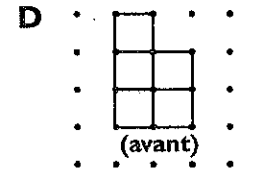
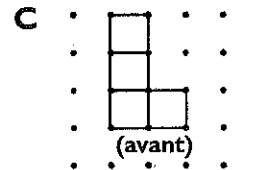
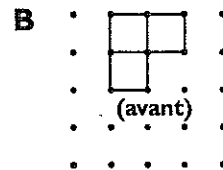
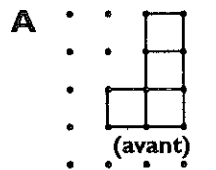


5. vue de haut

6. élévation avant

7. élévation gauche

8. élévation droite



Utilise du papier à points. Dans chaque cas, trace et identifie la vue de haut, l'élévation avant, l'élévation gauche et l'élévation droite.

